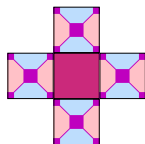


## Dlažba

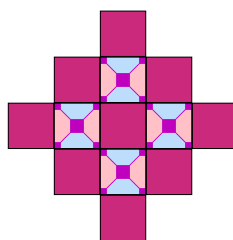
Fňoro ide pokladať dlažbu, lebo chce zmenu. Dlažobné kocky štvorcového tvaru ukladá nasledujúcim spôsobom:



Uloženie 1



Uloženie 2



Uloženie 3



Uloženie 4


Zemedár mu pomáha a dlaždice mu nosí takýmto spôsobom:



Uloženie 1



Uloženie 2



Uloženie 3



Uloženie 4

## Otázky na zodpovedanie

1. Ako vnímaš rast oboch tvarov?
2. Nakresli pre oboch kamarátov 4. a 5. prípad.
3. Vytvor ich spoločnú tabuľku počtu dlaždičiek.
4. Bude Zemedár stíhať nosiť dlaždice pre Fňora?
5. Vytvor grafy týchto situácií v jednej **presnej** súradnicovej sústave.
6. Ako vyzerá všeobecný vzorec pre obe situácie?