


Negatívny priestor


Existujú záporné tvary?

?


Tvar 0



Tvar 1



Tvar 2



Tvar 3

Inštrukcie úlohy

1. Ako vnímaš rast tohto tvaru?
2. Koľko štvorčekov bude v tvare č. 100? Vysvetli, ako to vieš.
3. Dokážeš použiť presne 1765 štvorčekov na vytvorenie tvaru v tejto schéme? Matematicky dokáž svoju úvahu.
4. Ako zistíš, koľko štvorčekov bude treba na stavbu ľubovoľného tvaru?
5. Ako bude vyzeráť Tvar 0, Tvar -1 a Tvar -2?
6. Vytvor tabuľku tvarov -2 až 3.
7. Vytvor presný graf (dieliky budú od seba presne 1 cm) týchto tvarov.

Tvar	-2	-1	0	1	2	3	n
počet štvorčekov							