


## Dva sady

Dvaja farmári, Fňoro a Chňoro, sa dohodli, že zistia, koho ovocný sad bude rodiť viac ovocia v konkrétnom prípade výsadby.


### Fňoro



prípad 1



prípad 2



prípad 3

?

prípad 4


prípad	1	2	3	4	5	43	n
počet stromov							

Ako vnímaš rast tvarov výsadby Fňora a Chňora? Vyplň tabuľky pre uvedené prípady.


### Chňoro



prípad 1



prípad 2



prípad 3

?

prípad 4

prípad	1	2	3	4	5	43	n
počet stromov							

Úlohy:

- Skúmaj rast oboch tvarov.
- Vyplň tabuľky.
- Nakresli presný graf pomocou pravítka pre oba prípady v jednej súradnicovej sústave.
- Koho výsadba bude rodiť viac ovocia?