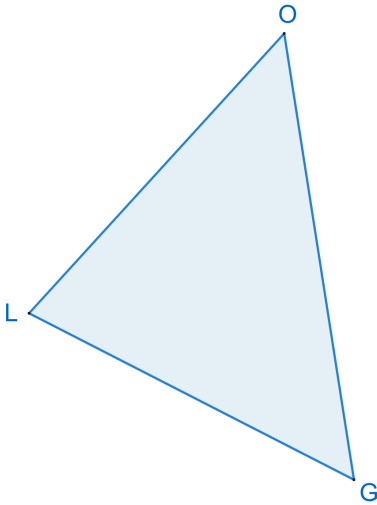
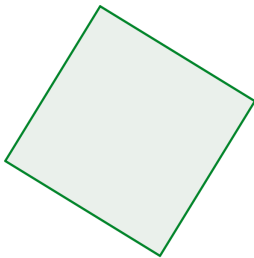


Obvod

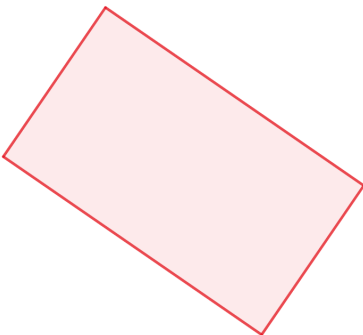
Odpovede zapisuj.



- 1) Aký tvar je toto?
- 2) Aká dlhá je úsečka GO?
Odmeraj v centimetroch.
- 3) Odmeraj úsečku OL.
- 4) Odmeraj úsečku LG.
- 5) Aký je obvod trojuholníka? (Ako ďaleko zájdeš po jeho hranách z jedného bodu do toho istého bodu dookola?)



- 6) Odmeraj dĺžku strany štvorca.
Aký je jeho obvod?



- 7) Urob to isté pre:
 - a) obdĺžnik
 - b) lichobežník
 - c) kosodĺžnik
 - d) šesťuholník
 - e) hlavu spolužiačky/spolužiaka
 - f) podlahu miestnosti tejto triedy

