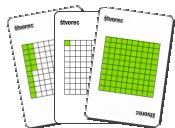


Zoradenie desatinných čísel

Vezmi si 13 kariet so štvorcami.



Zoraď ich v poradí od najmenšieho.

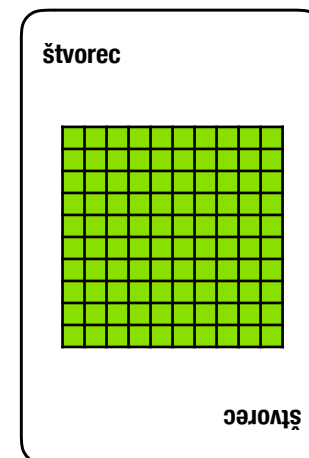
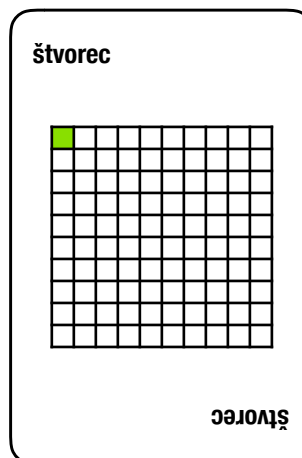
Vezmi si 13 kariet s číslami.



Priraď ich ku kartám so štvorcami.

Do svojho zošita:

1. Zapiš čísla podľa veľkosti, najmenšie bude prvé.
2. Ktoré je väčšie, 0,8 alebo 0,5?
3. Ktoré je menšie, 0,72 alebo 0,65?
4. Ktoré je najväčšie: 0,8; 0,08; 0,75?
5. Zapiš čísla, ktoré sú medzi 0,5 a 0,8.
6. Zapiš čísla, ktoré je medzi 0,35 a 0,4.



Najmenšie



Najväčšie

