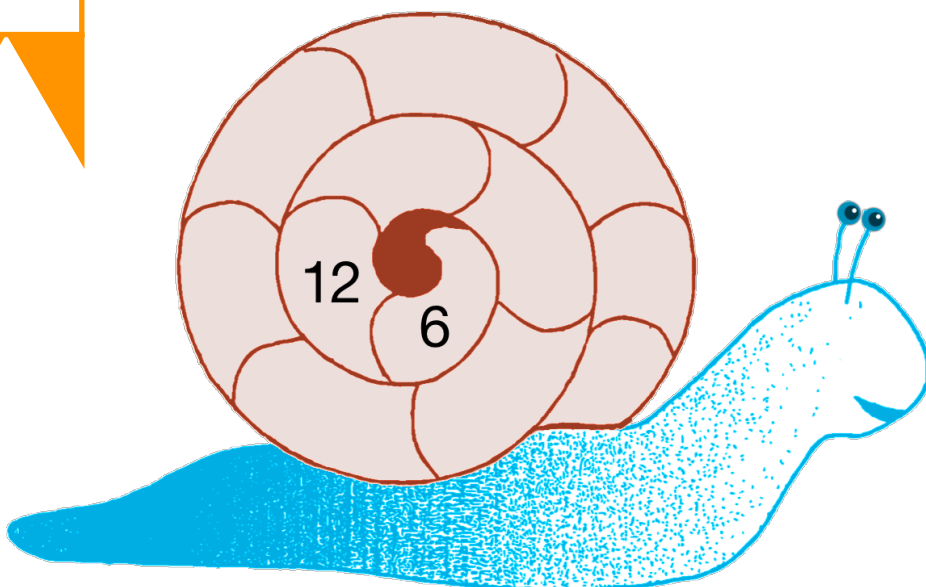
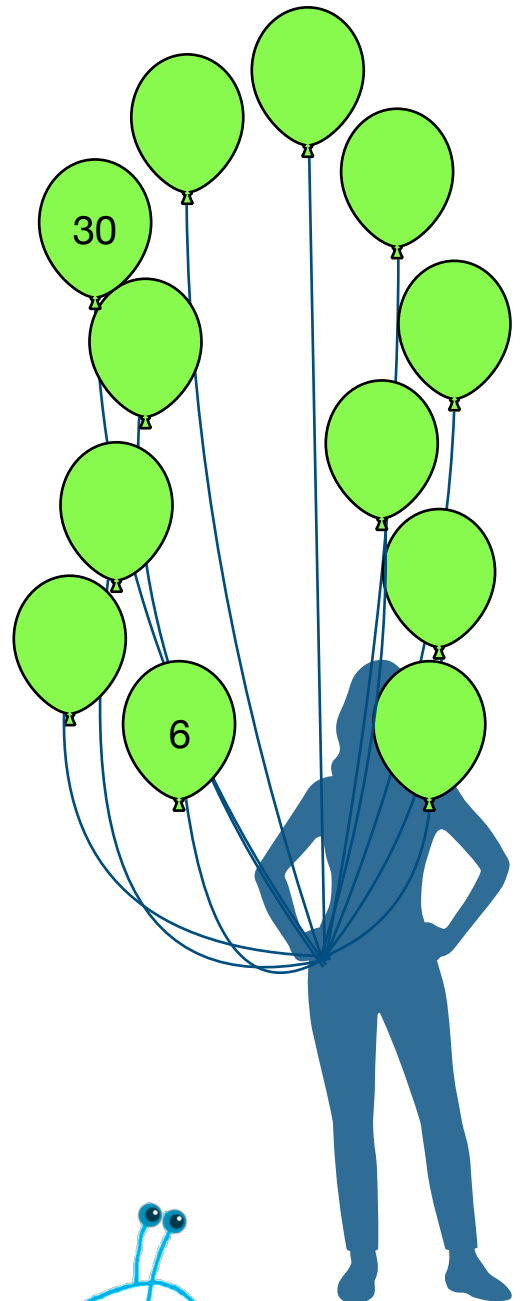

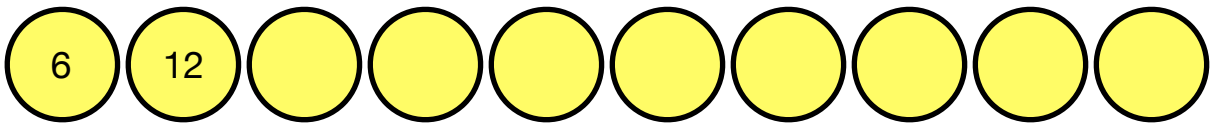


BROŽŮRKA NÁSOBKOV ČÍSLA **6**

Tvoje meno _____

Pokračuj vo vzoroch čísla 6



Spoj násobky čísla 6

20






6 12 18

384 378 390 372 366 362 360 354

24 30 36 42 48 54 60 66 72 76 80 82 84 86 88 90 92 94 96 98 100 102 104 106 108 110 112 114 116 118 120 122 124 126 128 130 132 134 136 138 140 142 144 146 148 150 152 154 156 158 160 162 164 166 168 170 172 174 176 178 180 182 184 186 188 190 192 194 196 198 200 202 204 206 208 210 212 214 216 218 220 222 224 226 228 230 232 234 236 238 240 242 244 246 248 250 252 254 256 258 260 262 264 266 268 270 272 274 276 278 280 282 284 286 288 290 292 294 296 298 300 302 304 306 308 310 312 314 316 318 320 322 324 326 328 330 332 334 336 338 340 342 344 346 348 350 352 354 356 358 360 362 364 366 368 370 372 374 376 378 380 382 384 386 388 390 392 394 396 398 400

Použi násobky čísla 6

Vyplň kroky na každém rebríku.



Tabuľka násobkov čísla 6

Vyplň tabuľku.

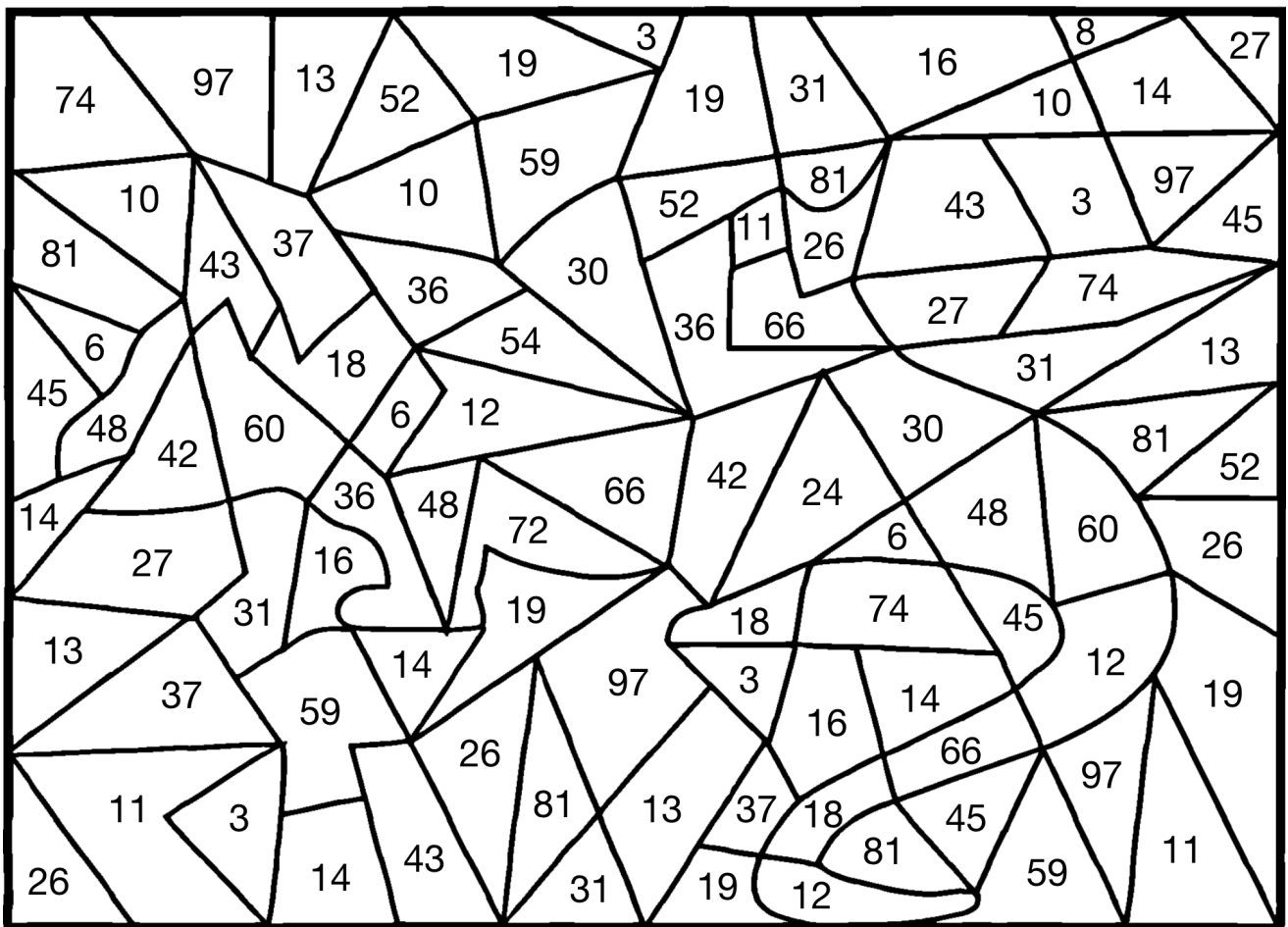
$6 \times 1 = 6$	$6 \times 7 = \square$
$6 \times 2 = 12$	$6 \times 8 = \square$
$6 \times 3 = \square$	$6 \times 9 = \square$
$6 \times 4 = \square$	$6 \times 10 = \square$
$6 \times 5 = \square$	$6 \times 11 = \square$
$6 \times 6 = \square$	$6 \times 12 = \square$

Vyfarbi všetky násobky čísla 6.

1	2	3	4	5	6	7	8	9	10
11	12	13	14	15	16	17	18	19	20
21	22	23	24	25	26	27	28	29	30
31	32	33	34	35	36	37	38	39	40
41	42	43	44	45	46	47	48	49	50
51	52	53	54	55	56	57	58	59	60
61	62	63	64	65	66	67	68	69	70
71	72	73	74	75	76	77	78	79	80
81	82	83	84	85	86	87	88	89	90
91	92	93	94	95	96	97	98	99	100

Vyfarbovačka

Vyfarni každú plochu, ktorá je označená násobkom čísla 6.



Spoj správně násobky čísla 6

6 x 10

6 x 3

6 x 6

6 x 7

6 x 9

6 x 5

6 x 4

6 x 8

42

36

18

30

60

48

24

54

Označ správnost.

1) $6 \times 6 = 30$ ✓

6) $6 \times 8 = 48$

2) $6 \times 7 = 58$ ✗

7) $6 \times 4 = 28$

3) $6 \times 5 = 30$

8) $6 \times 9 = 54$

4) $6 \times 3 = 16$

9) $6 \times 2 = 12$

5) $6 \times 10 = 60$

10) $6 \times 12 = 72$

Už by si mala/mal poznať tabuľku násobkov čísla 6

Over si to nasledujúcimi výpočtami.

$6 \times 9 =$

$6 \times 4 =$

$6 \times 6 =$

$6 \times 1 =$

$6 \times 2 =$

$6 \times 7 =$

$6 \times 3 =$

$6 \times 10 =$

$6 \times 5 =$

$6 \times 8 =$

Keď máš túto brožúrku hotovú, požiadaj učiteľa, aby otestoval tvoje vedomosti z násobkov čísla 6.

Poznám moju tabuľku násobkov čísla 6.

Podpis žiaka _____

Podpis učiteľa _____

