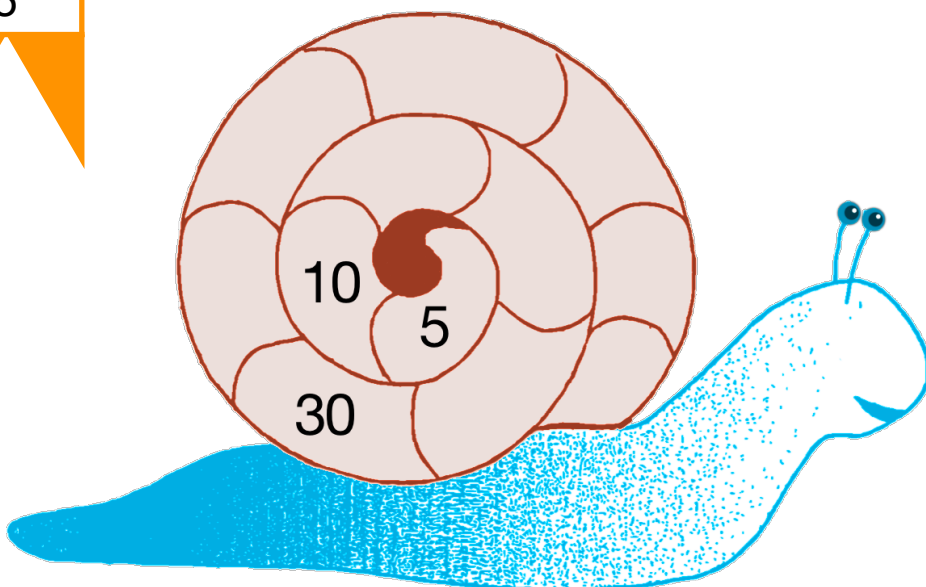
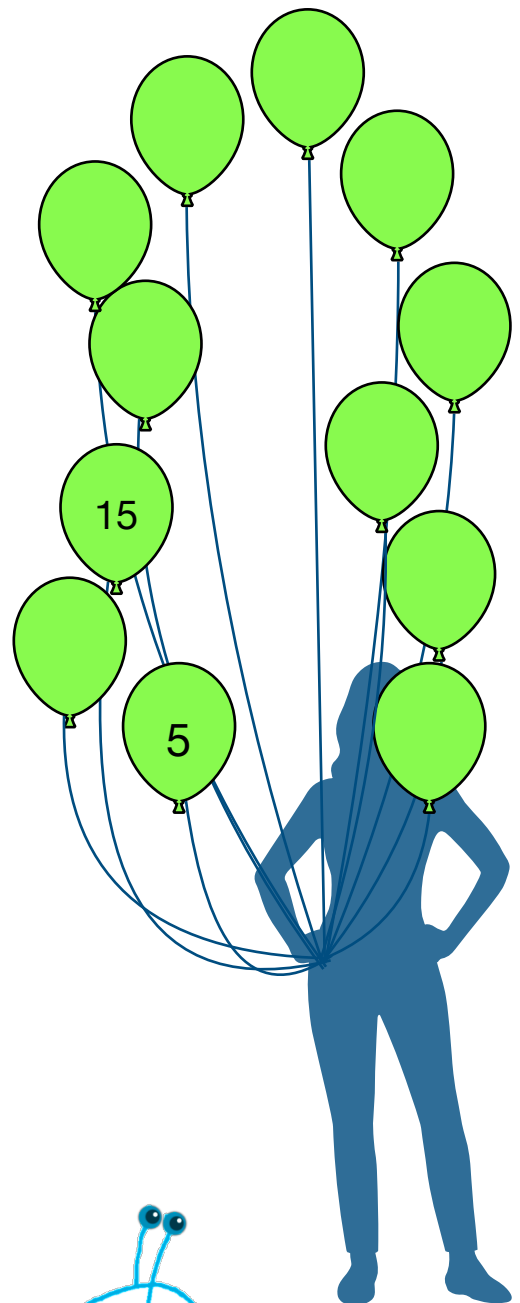

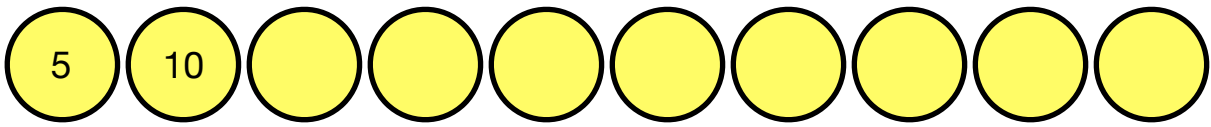


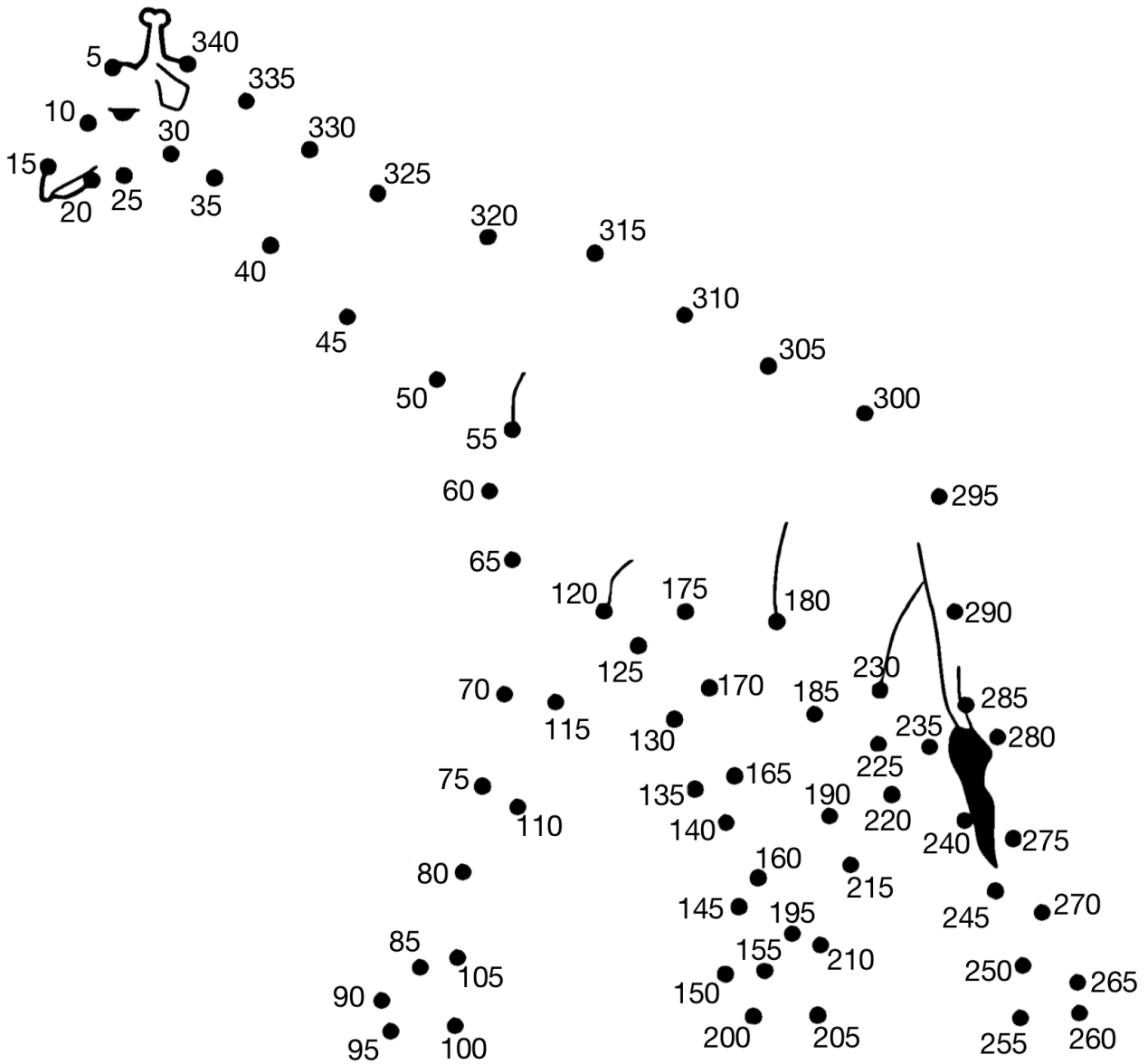
BROŽŮRKA NÁSOBKOV ČÍSLA **5**

Tvoje meno _____

Pokračuj vo vzoroch čísla 4








Spoj násobky čísla 5



Použi násobky čísla 5

Vyplň kroky na každém rebríku.



Tabuľka násobkov čísla 5

Vyplň tabuľku.

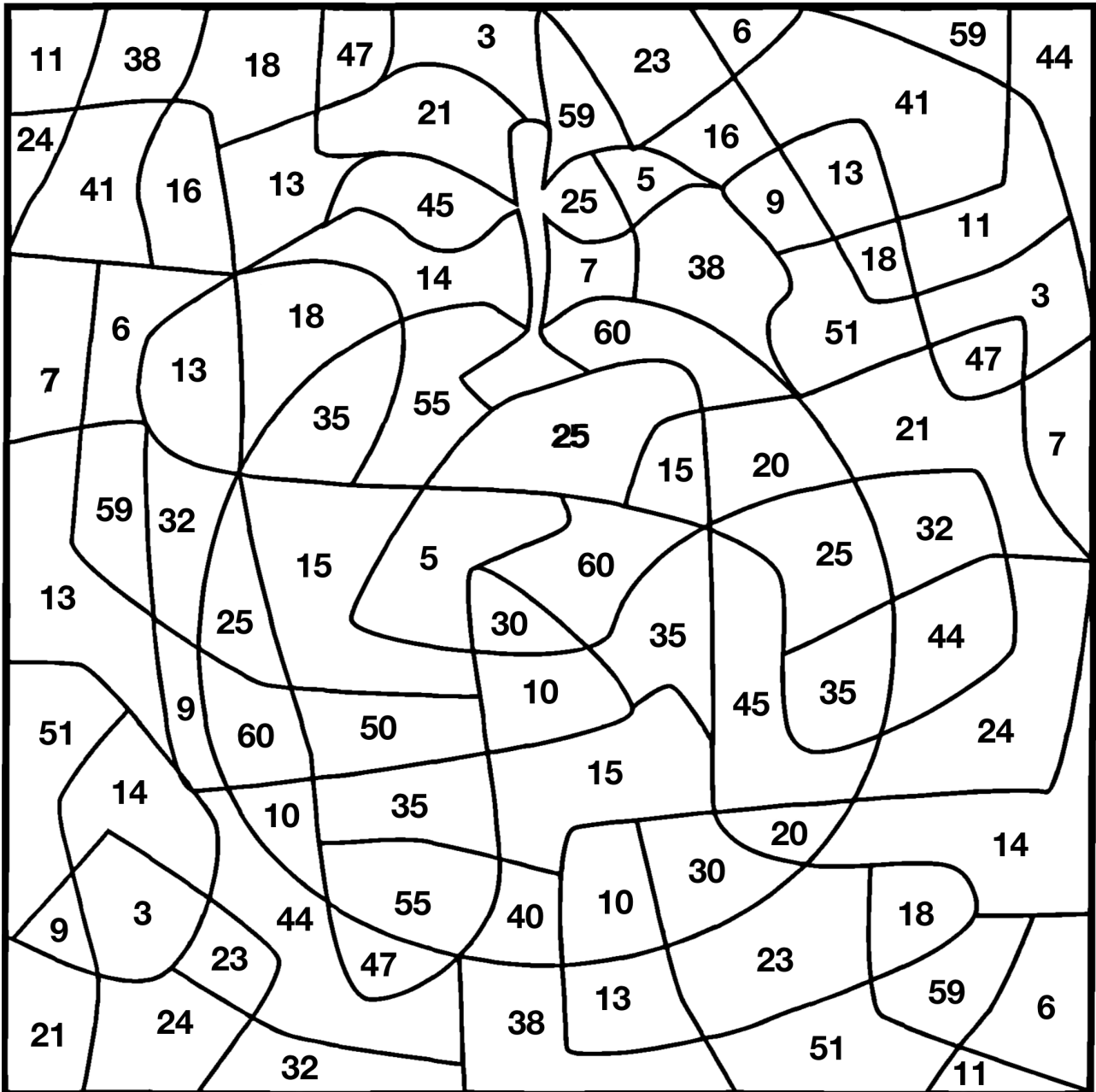
$5 \times 1 = 5$	$5 \times 7 = \square$
$5 \times 2 = 10$	$5 \times 8 = \square$
$5 \times 3 = \square$	$5 \times 9 = \square$
$5 \times 4 = \square$	$5 \times 10 = \square$
$5 \times 5 = \square$	$5 \times 11 = \square$
$5 \times 6 = \square$	$5 \times 12 = \square$

Vyfarbi všetky násobky čísla 5.

1	2	3	4	5	6	7	8	9	10
11	12	13	14	15	16	17	18	19	20
21	22	23	24	25	26	27	28	29	30
31	32	33	34	35	36	37	38	39	40
41	42	43	44	45	46	47	48	49	50
51	52	53	54	55	56	57	58	59	60
61	62	63	64	65	66	67	68	69	70
71	72	73	74	75	76	77	78	79	80
81	82	83	84	85	86	87	88	89	90
91	92	93	94	95	96	97	98	99	100

Vyfarbovačka

Vyfarni každú plochu, ktorá je označená násobkom čísla 5.



Spoj správně násobky čísla 5

5 x 10

5 x 3

5 x 6

5 x 7

5 x 9

5 x 5

5 x 4

5 x 8

45

50

30

20

25

15

35

40

Označ správnost.

1) $5 \times 6 = 30$ ✓

2) $5 \times 7 = 36$ ✗

3) $5 \times 5 = 25$

4) $5 \times 3 = 15$

5) $5 \times 10 = 50$

6) $5 \times 8 = 45$

7) $5 \times 4 = 20$

8) $5 \times 9 = 40$

9) $5 \times 2 = 10$

10) $5 \times 11 = 55$

Už by si mala/mal poznať tabuľku násobkov čísla 5

Over si to nasledujúcimi výpočtami.

$5 \times 9 =$

$5 \times 4 =$

$5 \times 6 =$

$5 \times 1 =$

$5 \times 2 =$

$5 \times 7 =$

$5 \times 3 =$

$5 \times 10 =$

$5 \times 5 =$

$5 \times 8 =$

Keď máš túto brožúrku hotovú, požiadaj učiteľa, aby otestoval tvoje vedomosti z násobkov čísla 5.

Poznám moju tabuľku násobkov čísla 5.

Podpis žiaka _____

Podpis učiteľa _____

