







































# Fňorova zbierka na charitu

Fňoro umiestnil box na charitatívnu zbierku do svojej triedy na jeden týždeň.

Na konci každého dňa si spolu s učiteľom sadli a spočítali, koľko peňazí vyzbierali.

Tu je znázornené, koľko v ktorý deň vyzbierali.

|          |    |    |    |    |    |    |    |
|----------|---|---|---|---|--|---|---|
|          | 1€ mince  | 50c mince   | 20c mince   | 10c mince   | 5c mince   | 2c mince  | 1c mince  |
| pondelok |    |    |    |    |    |    |    |
| utorok   |   |  |  |  |  |  |  |
| streda   |   |  |  |   |  |  |  |
| štvrtok  |   |  |  |  |  |  |  |
| piatok   |  |  |  |  |  |  |  |

Vyplň celkové súčty pre zbierku za každý deň použitím vkladových lístkov na pracovnej karte **2224a**. Pondelkový lístok je už čiastočne vyplnený.

Pozri sa na vykladové lístky, ktoré máš vyplnené na pracovnej karte. Odpovede poznač do zošita.

1. Skopíruj túto tabuľku do zošita.

Vyplň do nej celkový súčet vyzbieraný za každý deň.

Spočítaj celkové množstvo peňazí za celý týždeň.

| Deň             | Vyzbierané množstvo |
|-----------------|---------------------|
| Pondelok        | 4,72€               |
| Utorok          | 2,74€               |
| Streda          |                     |
| Štvrtok         |                     |
| Piatok          |                     |
| Spolu za týždeň |                     |

2. V ktorý deň Fňoro vyzbieral najviac peňazí?
3. V ktorý deň Fňoro vyzbieral najmenej peňazí?
4. O koľko viac Fňoro vyzbieral v piatok, než v stredu?
5. V ktorý deň vyzbieral Fňoro viac, ako 3,5€?