
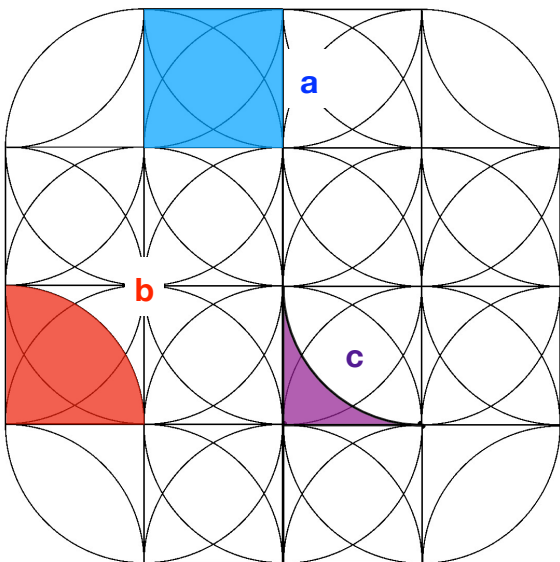


# Dlažba 1

Máme základnú plochu.



V nej označíme jednotlivé menšie plochy.



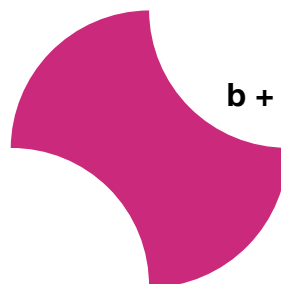
Nižšie sú ukážky, ako sa dajú zapísať rôzne plochy zo základnej plochy pomocou **abc**.



$a + b$

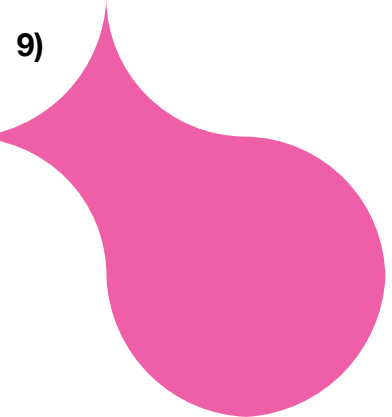


$b + c$



$b + b + c + c = 2b + 2c$

Zapiš nižšie uvedené plochy pomocou **abc**.



Teraz vymysli nejaké vlastné plochy, zakresli a zapiš ich.