
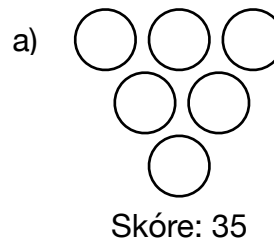


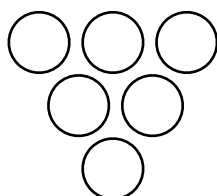
Fňorov bowlingový problém



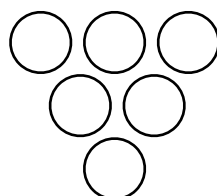
- 1) Ktoré kolky musí Fňoro zhodiť, aby skóroval 35 bodov?
Nakresli si do zošita páľky a cez zhodené urob krížiky.



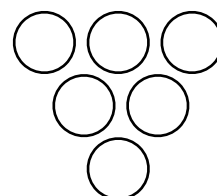
Existujú 4 rôzne možnosti, ako Fňoro dokáže skórovať 35. Dokážeš ich nájsť?



Skóre: 35



Skóre: 35



Skóre: 35

- 2) Koľkými rôznymi možnosťami dokáže skórovať 23?
Nakresli do zošita diagramy s tvojimi odpoveďami.
- 3) Skús to znovu so skóre 30. Koľko je možností?