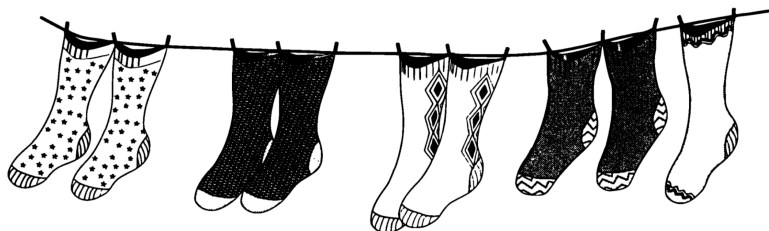



Párne a nepárne

Budeš potrebovať žetóny.



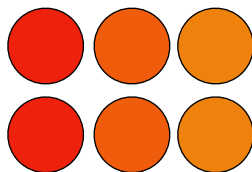
Na šnúre visí: 9 ponožiek
4 páry ponožiek ... a 1 osamotená ponožka



9 je **nepárne** číslo



6 topánok tvoria 3 páry topánok.

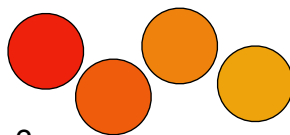


6 je **párne** číslo

A) Vezmi 4 žetóny.

Koľko párov dokážeš urobiť?

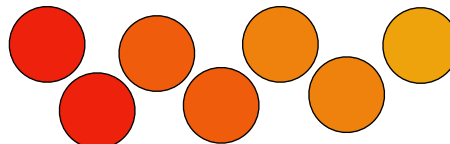
Je 4 párne alebo nepárne číslo?



B) Vezmi 7 žetónov.

Koľko párov dokážeš urobiť?

Je 7 párne alebo nepárne číslo?



Sú tieto čísla párne alebo nepárne?

C) 11

D) 23

E) 10

F) 5

G) 17

H) 18

I) 25

J) 14

K) 3

L) 1